

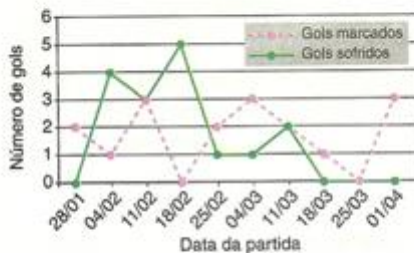
1) Em reportagem sobre crescimento da população brasileira, uma revista de divulgação científica publicou tabela com a participação relativa de grupos etários na população brasileira, no período de 1970 a 2050 (projeção), em três faixas de idade: abaixo de 15 anos; entre 15 e 65 anos; e acima de 65 anos.



Admitindo-se que o título da reportagem se refira ao grupo etário cuja população cresceu sempre, ao longo do período registrado, um título adequado poderia ser:

- "O Brasil de fraldas"
- "Brasil: ainda um país de adolescentes"
- "O Brasil chega à idade adulta"
- "O Brasil troca a escola pela fábrica"
- "O Brasil de cabelos brancos"

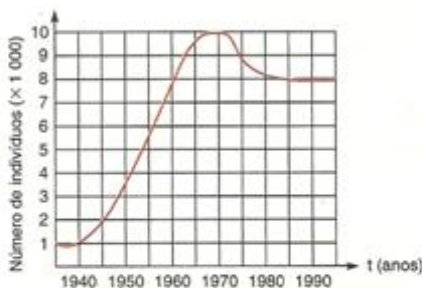
2) No gráfico estão representados os gols marcados e os gols sofridos por uma equipe de futebol nas dez primeiras partidas de um determinado campeonato.



Considerando que, neste campeonato, as equipes ganham 3 pontos para cada vitória, 1 ponto por empate e 0 ponto em caso de derrota, a equipe em questão, ao final da décima partida, terá acumulado um número de pontos igual a:

- 15
- 17
- 18
- 20
- 24

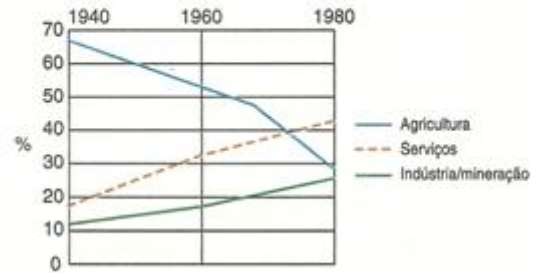
3) O número de indivíduos de certa população é representado pelo gráfico abaixo.



Em 1975, a população tinha um tamanho aproximadamente igual ao de:

- 1960
- 1963
- 1967
- 1970
- 1980

4) O gráfico mostra a porcentagem da força de trabalho brasileira em 40 anos, com relação aos setores agrícola, de serviços e industrial/mineral.



A leitura do gráfico permite constatar que:

- Em 40 anos, o Brasil deixou de ser essencialmente agrícola para se tornar uma sociedade quase exclusivamente industrial.
- A variação da força de trabalho agrícola foi mais acentuada no período de 1940 a 1960.
- Por volta de 1970, a força de trabalho agrícola tornou-se equivalente à industrial e de mineração.
- Em 1980, metade dos trabalhadores brasileiros constituía a força de trabalho do setor agrícola.
- De 1960 a 1980, foi equivalente o crescimento percentual de trabalhadores nos setores industrial/mineral e de serviços.

5) O gráfico compara o número de homicídios por grupo de 100 000 habitantes entre 1995 e 1998 nos EUA, em estados com e sem pena de morte.



Carta Capital, 6 de dezembro de 2000.

Com base no gráfico, pode-se afirmar que:

- a taxa de homicídios cresceu apenas nos estados sem pena de morte.
- nos estados com pena de morte a taxa de homicídios é menor que nos estados sem pena de morte.
- no período considerado, os estados com pena de morte apresentaram taxas maiores de homicídios.
- entre 1996 e 1997, a taxa de homicídios permaneceu estável nos estados com pena de morte.
- a taxa de homicídios nos estados com pena de morte caiu pela metade no período considerado.